

Meten 7A

Eiland: Schaal

Doel: Berekenen van een lengte met schaal



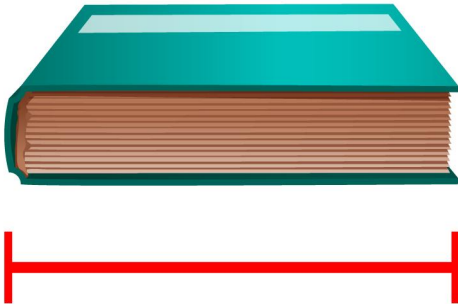
Linaal



Potlood

Opgave 1 Wat is de breedte van het boek in het echt?

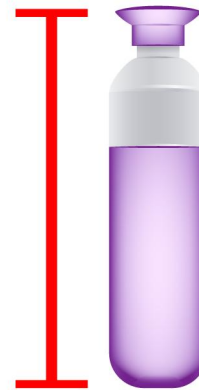
_____ centimeter



schaal 1 : 2

Opgave 2 Wat is de hoogte van de bidon in het echt?


_____ centimeter



schaal 1 : 5

Opgave 3 Wat is de hoogte van de stoel in het echt?

_____ centimeter



schaal 1 : 10

Opgave 4 Wat is de lengte en breedte van het tennisracket in het echt?


_____ en _____ centimeter



schaal 1 : 10

Opgave 5 Wat is de lengte van de tent in het echt?

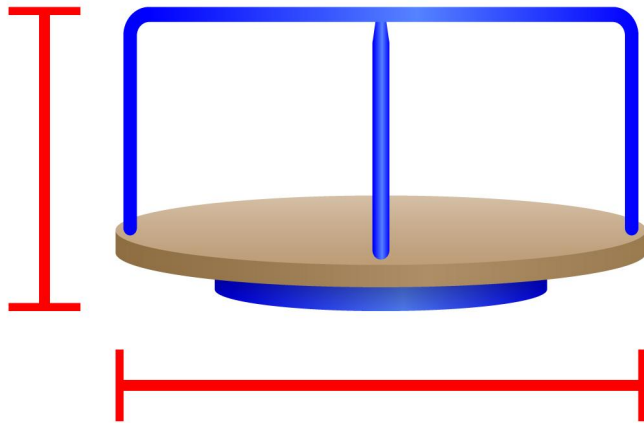
_____ centimeter



schaal 1 : 100

Opgave 6 Wat is de breedte en hoogte van het draairad in het echt?

_____ en _____ centimeter




schaal 1 : 100

Opgave 7 Wat is de lengte van de karretjes in het echt?

Noteer je antwoord in meters.

_____ meter

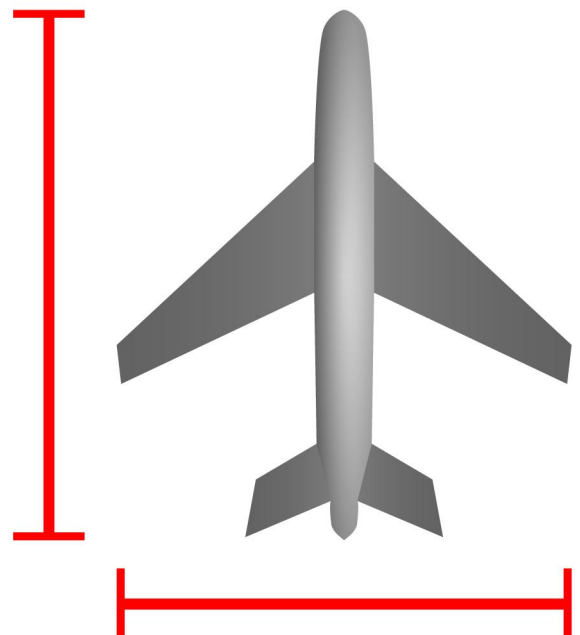


schaal 1 : 150

Opgave 8 Wat is de lengte en breedte van het vliegtuig in het echt?

Noteer je antwoord in meters.

_____ en _____ meter



Schaal 1 : 1000