

Procenten, Breuken & Verhoudingen 4C

Eiland: Kennismaken met breuken

Leerdoel: Teken van een hele van een breuk via opmeten



Liniaal




Potlood




Kleurpotloden

Opgave 1 Dit is $\frac{1}{4}$ deel van de strook. Teken de hele.



Opgave 2 Dit is $\frac{2}{5}$ deel van de strook. Teken de hele.



Opgave 3 Dit is $\frac{3}{10}$ deel van het touw. Teken de hele.



Opgave 4 Dit is $\frac{1}{2}$ deel. Teken de hele plank.



Opgave 5 Dit is $\frac{5}{8}$ deel. Teken de hele plank.



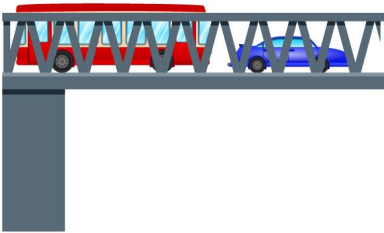
Opgave 6 Dit is $\frac{1}{6}$ deel. Teken de hele plank.



Opgave 7 Dit is $\frac{4}{10}$ deel. Teken de hele ijsbaan.



Opgave 8 Dit is $\frac{5}{6}$ deel. Teken de hele brug.



Opgave 9 Dit is $\frac{3}{5}$ deel. Teken de hele ijsbaan.



Opgave 10 Dit is $\frac{4}{5}$ deel. Teken het hele snoer.

