

Tabellen & Grafieken 3C

Eiland: Aflezen en tekenen van staafgrafieken

Leerdoel: Teken en een staafgrafiek



Liniaal




Kleurpotloden

Opgave 1 Teken een staafgrafiek op basis van de tabel.

Schrijf ook de informatie onder de grafiek op.


middenbouwgroepen	groep 3	groep 4	groep 5
aantal kinderen met een bril	5	3	9

Brildragers in de middenbouw



Opgave 2 Teken een staafgrafiek op basis van dit verhaal. Schrijf ook de informatie onder de grafiek op.

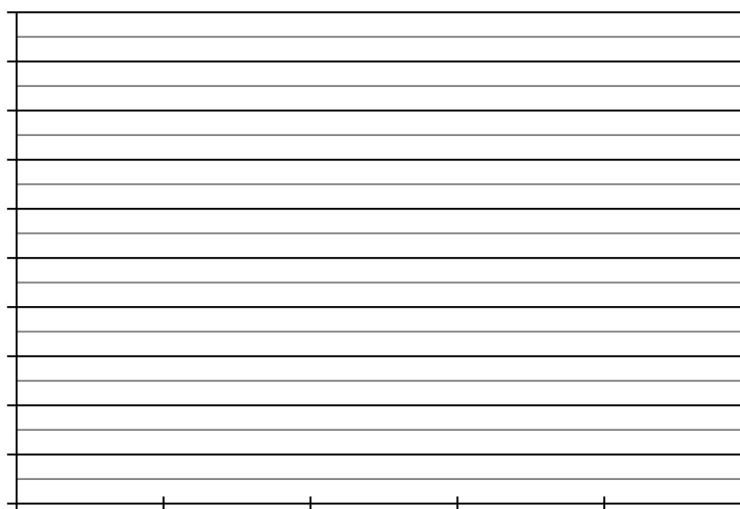
De groenteboer heeft een uur lang bijgehouden welke fruitsoorten hij verkocht heeft op de markt. Hij verkocht 40 bananen, 35 appels, 75 peren, 90 aardbeien en 40 kiwi's.



Opgave 3 Teken een staafgrafiek op basis van de tabel.
Schrijf ook de informatie links van en onder de grafiek op.


dagen	maandag	dinsdag	woensdag	donderdag	vrijdag
aantal bezoekers dierentuin	80	55	95	20	60

Bezoekers dierentuin per dag



Opgave 4 Teken een staafgrafiek op basis van dit verhaal. Schrijf ook de informatie onder de grafiek op.


Het aantal bezoekers van de bibliotheek wordt drie weken bijgehouden. In week 1 waren er 300 bezoekers, in week 2 waren dat er 700 en in week 3 waren dat er 450.



Opgave 5 Teken een staafgrafiek op basis van de tabel: Wekelijkse bezoekers museum. Schrijf ook de informatie links van en onder de grafiek op.

dagen	dinsdag	woensdag	donderdag	vrijdag
aantal bezorgde pakketten	800	250	900	550

Dagelijks bezorgde pakketten



Opgave 6 Ga op onderzoek uit in je klas. Verzamel gegevens en zet deze in de tabel. Teken dan de staafgrafiek en bedenk er een passende titel bij. Schrijf ook de informatie links van en onder de grafiek op.

