

Tabellen & Grafieken 5B

Eiland: Aflezen en tekenen van lijngrafieken

Leerdoel: Teken en een lijngrafiek



Liniaal



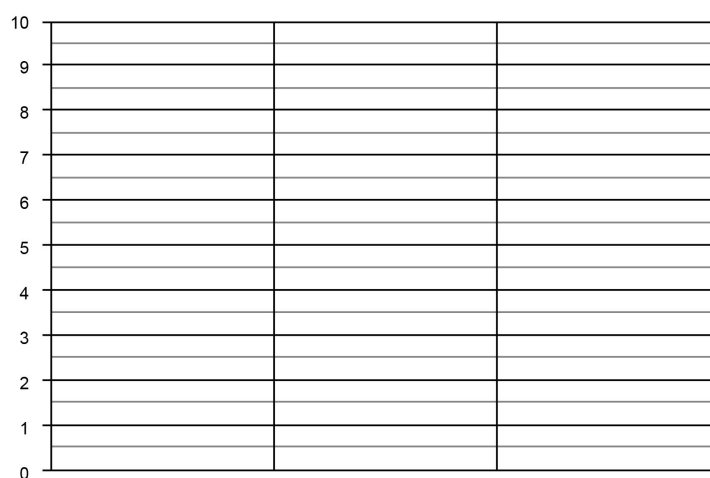
Kleurpotloden

Opgave 1 Teken een lijngrafiek op basis van de tabel.

Schrijf ook de informatie bij de x-as op.

leeftijd	8 jaar	9 jaar	10 jaar	11 jaar
euro's zakgeld	€ 5,-	€ 6,-	€ 8,-	€ 10,-

Leeftijdsgebonden zakgeld

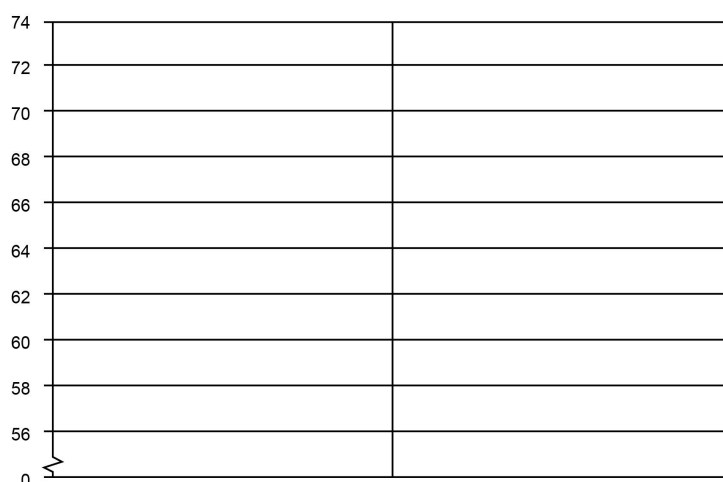


Opgave 2 Teken een lijngrafiek op basis van de tabel.

Schrijf ook de informatie bij de x-as en y-as op.

leeftijd in maanden	maand 1	maand 2	maand 3
lengte van een baby in cm	58	60	64

Gemiddelde lengte baby's




Opgave 3 Teken een lijngrafiek op basis van de tabel.
Schrijf ook de informatie bij de x-as op.

Ik heb uw temperatuur de hele week gemeten.
Op maandag 37,5 °C
Op dinsdag 39 °C
Op woensdag 40,5 °C
Op donderdag 38,5 °C
Op vrijdag 40 °C
Op zaterdag 39,5 °C
Op zondag 37,5 °C



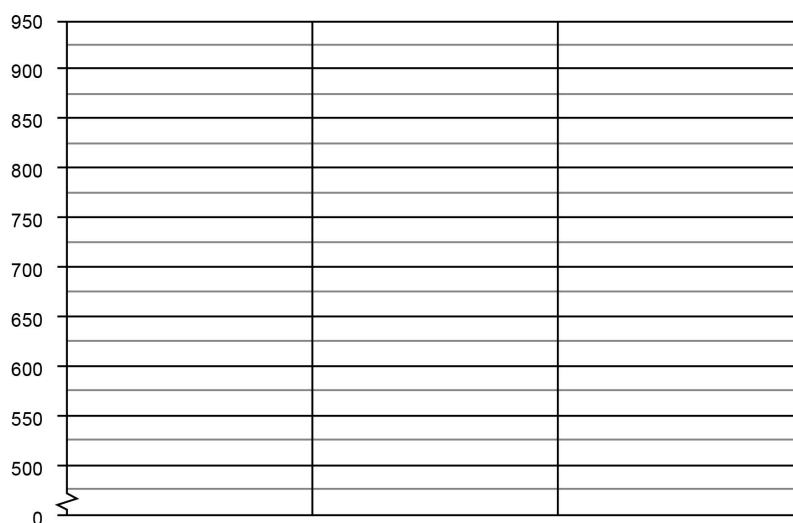
Temperatuur per dag



Opgave 4 Teken een lijngrafiek op basis van de tabel.
Schrijf ook de informatie bij de x-as op.

maand	juni	juli	augustus	september
aantal bezoekers	600	525	875	650

Bezoekers dierentuin De Grote Beer



Opgave 5 Teken een lijngrafiek op basis van de tabel. Schrijf ook de informatie bij de x-as en y-as op.

week	week 1	week 2	week 3	week 4	week 5	week 6
aantal bezoekers museum	250	900	400	550	750	400

Wekelijkse bezoekers museum

[illegible]

Opgave 6 Ga op onderzoek uit in je klas. Verzamel gegevens en zet deze in de tabel. Teken dan de lijngrafiek en bedenk er een passende titel bij. Schrijf ook de informatie bij de x-as en y-as op.

[illegible]