

Tabellen & Grafieken 6A

Eiland: Aflezen en tekenen van lijngrafieken
Leerdoel: Teken een meervoudige lijngrafiek



Liniaal

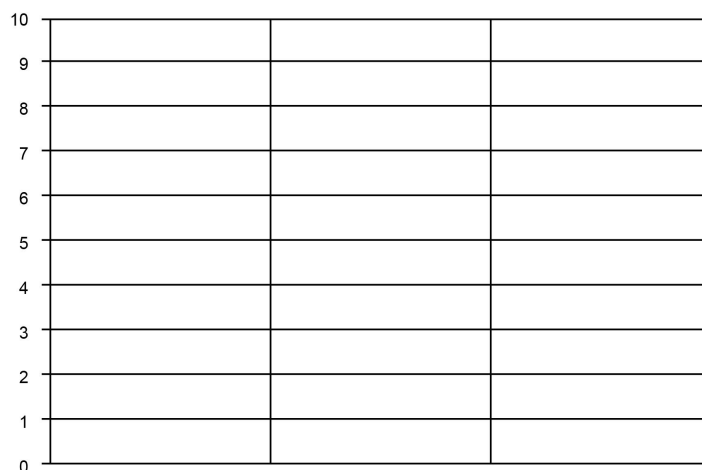


Kleurpotloden

Opgave 1 Teken een lijngrafiek op basis van de tabel.
 Schrijf ook de informatie bij de x-as op.

leeftijd	8 jaar	9 jaar	10 jaar	11 jaar
zakgeld per week in 2010	€ 5,-	€ 6,-	€ 8,-	€ 10,-
zakgeld per week in 2020	€ 6,-	€ 8,-	€ 9,-	€ 10,-

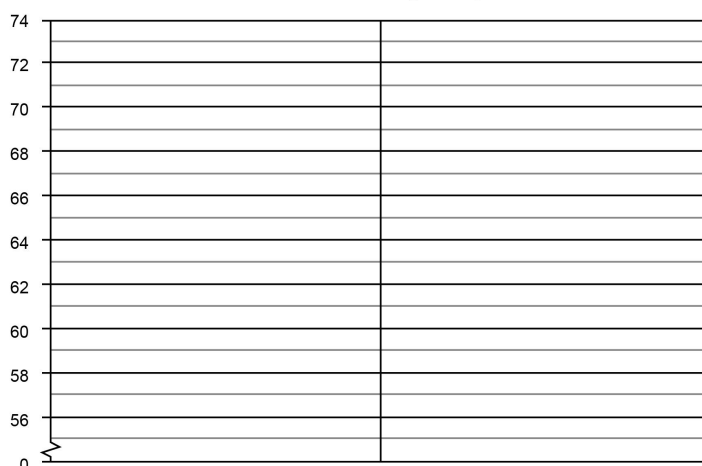
Leeftijdsgebonden zakgeld



Opgave 2 Teken een lijngrafiek op basis van de tabel.
 Schrijf ook de informatie bij de x-as en y-as op.

leeftijd in maanden	maand 1	maand 2	maand 3
lengte van een baby in cm jongen	58	60	64
lengte van een baby in cm meisje	60	62	66

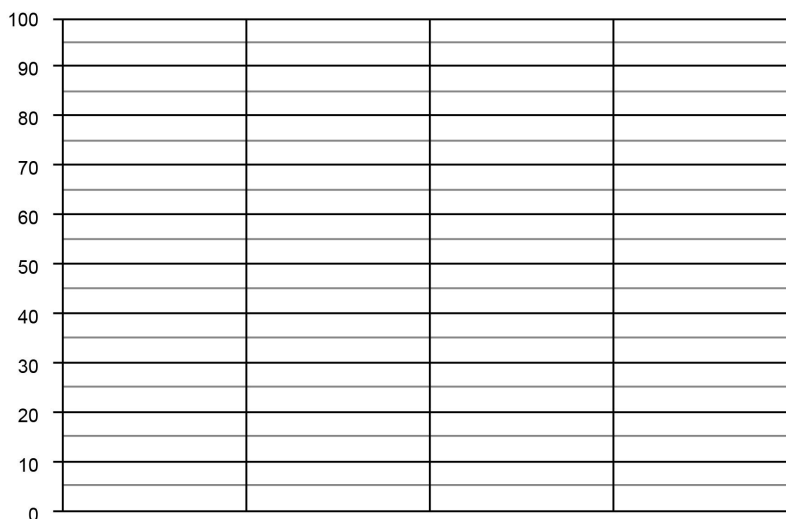
Gemiddelde lengte baby's



Opgave 3 Teken een lijngrafiek op basis van de tabel.
Schrijf ook de informatie bij de x-as op.

dag	maandag	dinsdag	woensdag	donderdag	vrijdag
aantal mannelijke klanten	80	75	90	55	60
aantal vrouwelijke klanten	60	55	100	25	40

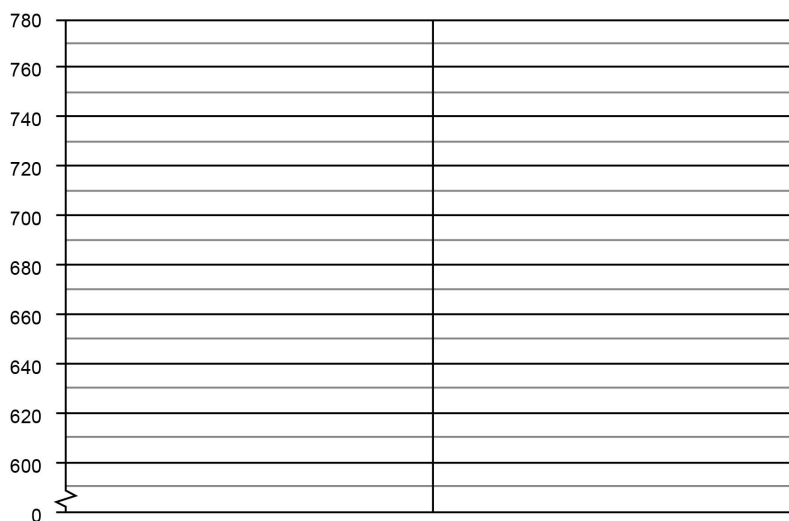
Klanten in de winkel



Opgave 4 Teken een lijngrafiek op basis van de tabel.
Schrijf ook de informatie bij de x-as op.

dag	dag 1	dag 2	dag 3
gewicht van een puppy in gram	660	700	740
gewicht van een kitten in gram	600	620	680

Gewicht puppy en kitten



Opgave 5 Teken een lijngrafiek op basis van de tabel. Schrijf ook de informatie bij de x-as en y-as op.

dagen	ma	di	wo	do	vr	za	zo
aantal bezorgde brieven	950	500	450	600	800	350	50
aantal bezorgde brieven	750	600	200	450	800	300	100

Dagelijks bezorgde post

[illegible]

Opgave 6 Ga op onderzoek uit in je klas. Verzamel gegevens en zet deze in de tabel. Teken dan de lijngrafiek en bedenk er een passende titel bij. Schrijf ook de informatie bij de x-as en y-as op.

[illegible]