

## Tabellen & Grafieken 5A

**Eiland:** Aflezen en tekenen van lijngrafieken

**Leerdoel:** Teken en een lijngrafiek



Liniaal



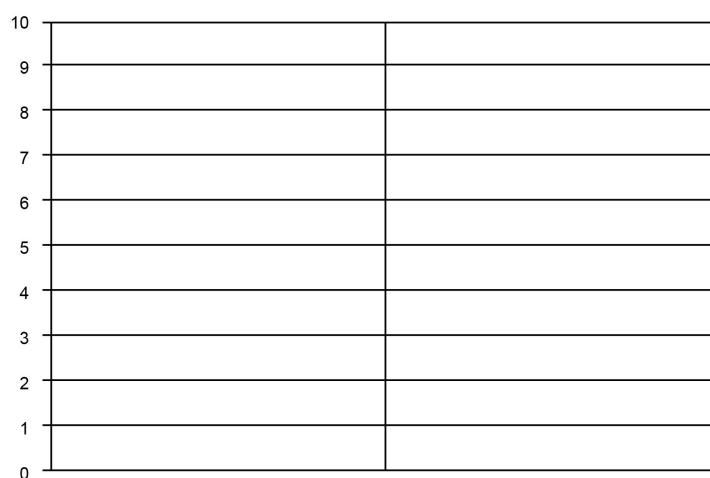
Kleurpotloden

**Opgave 1** Teken een lijngrafiek op basis van de tabel.

Schrijf ook de informatie bij de x-as op.

dagdeel	's ochtends	's middags	's avonds
temperatuur	4 °C	9 °C	3 °C

Temperatuur per dagdeel

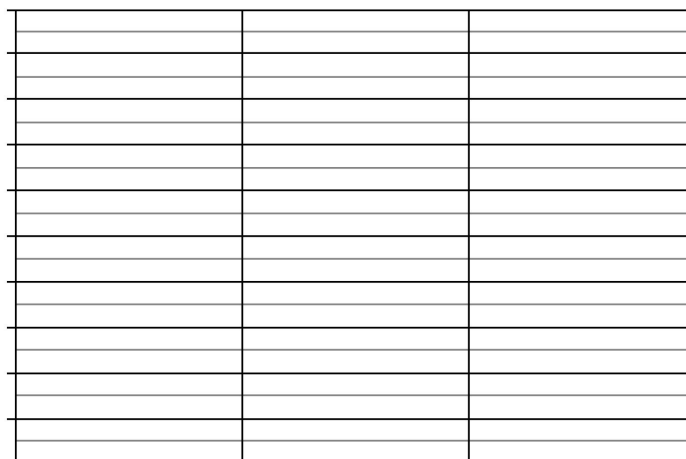


**Opgave 2** Teken een lijngrafiek op basis van de tabel.

Schrijf ook de informatie bij de x-as en y-as op.

week	week 1	week 2	week 3	week 4
aantal verkochte ijsjes	15	80	65	50

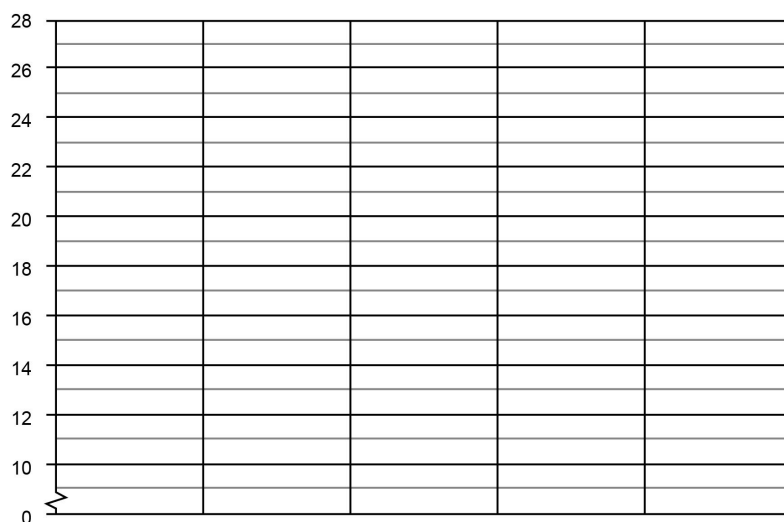
Wekelijkse ijsverkoop



**Opgave 3** Teken een lijngrafiek op basis van de tabel.  
Schrijf ook de informatie bij de x-as op.

maand	februari	maart	april	mei	juni	juli
temperatuur	12 °C	15 °C	18 °C	19 °C	21 °C	22 °C

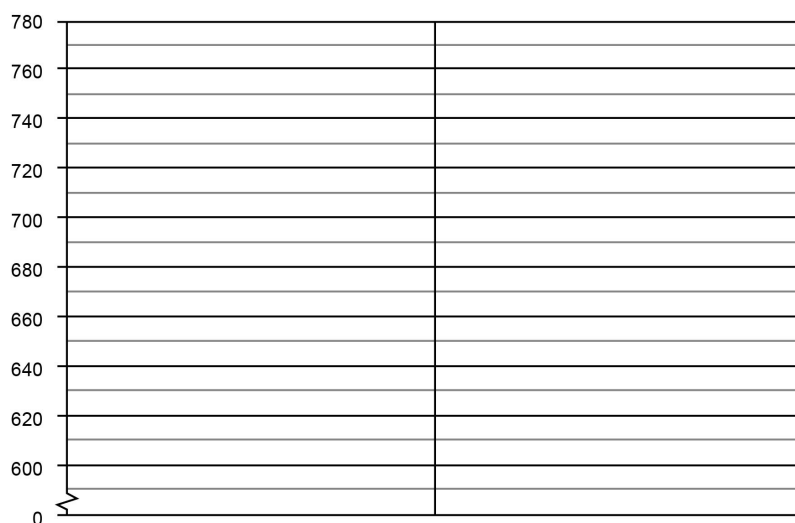
Temperatuur per maand



**Opgave 4** Teken een lijngrafiek op basis van de tabel.  
Schrijf ook de informatie bij de x-as op.

dag	dag 1	dag 2	dag 3
gewicht van een puppy in gram	600	620	740

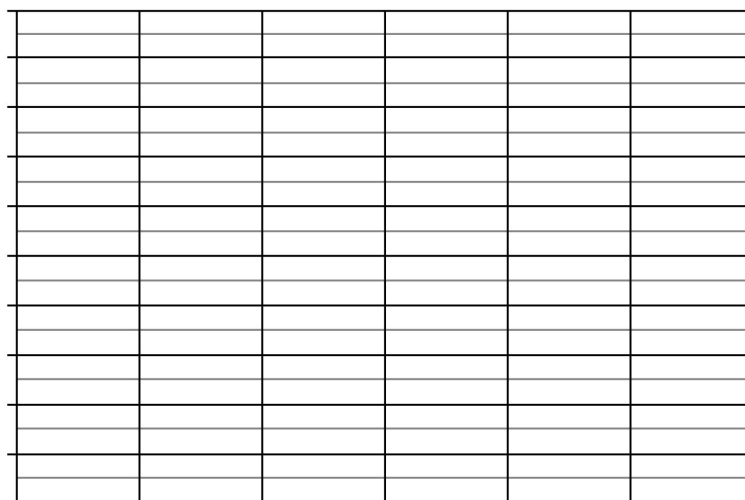
Gewicht puppy



**Opgave 5** Teken een lijngrafiek op basis van de tabel.  
Schrijf ook de informatie bij de x-as en y-as op.

dagen	ma	di	wo	do	vr	za	zo
aantal bezorgde brieven	950	500	450	600	800	350	50

Dagelijks bezorgde brieven



**Opgave 6** Ga op onderzoek uit in je klas. Verzamel gegevens en zet deze in de tabel. Teken dan de lijngrafiek en bedenk er een passende titel bij. Schrijf ook de informatie bij de x-as en y-as op.