

Tabellen & Grafieken 4A

Eiland: Aflezen en tekenen van staafgrafieken
Leerdoel: Teken en een meervoudige staafgrafiek



Liniaal




Kleurpotloden

Opgave 1 Teken een staafgrafiek op basis van de tabel.
 Schrijf ook de informatie bij de x-as op.

bovenbouwgroepen	groep 6	groep 7	groep 8
aantal kinderen met een bril	80	50	20
aantal kinderen met een beugel	20	40	80


Brillen en beugels in de bovenbouw



Opgave 2 Teken een staafgrafiek op basis van dit verhaal.
 Schrijf ook de informatie bij de x-as op.

winkel	winkel A	winkel B	winkel C
aantal verkochte tv's	200	400	700
aantal verkochte computers	500	800	300


Verkoop in winkels



Opgave 3 Teken een staafgrafiek op basis van de tabel.
Schrijf ook de informatie bij de x-as en y-as op.

week	week 1	week 2	week 3	week 4
aantal verkochte waterijsjes	150	800	400	700
aantal verkochte softijsjes	550	750	800	300


Wekelijkse ijsverkoop



Opgave 4 Teken een staafgrafiek op basis van dit verhaal.
Schrijf ook de informatie bij de x-as op.

winkel	de Bloem	Het Roosje	de Tulp
aantal verkochte rozen	2000	7000	4000
aantal verkochte tulpen	5000	6500	8500


Verkochte bloemen per winkel



Opgave 5 Teken een staafgrafiek op basis van de tabel.
Schrijf ook de informatie bij de x-as en y-as op.

winkel	Gigant	Techneut	Media	Megabite	Gigabite
aantal verkochte tablets	1500	8000	5500	4500	7000
aantal verkochte laptops	6000	4000	1500	6000	8000

Verkoop in winkels



Opgave 6 Ga op onderzoek uit in je klas. Verzamel gegevens en zet deze in de tabel. Teken dan de staafgrafiek en bedenk er een passende titel bij. Schrijf ook de informatie bij de x-as en y-as op.

