

Tabellen & Grafieken 3B

Eiland: Aflezen en tekenen van staafgrafieken

Leerdoel: Teken en een staafgrafiek



Liniaal




Kleurpotloden

Opgave 1 Teken een staafgrafiek op basis van de tabel.

Schrijf ook de informatie onder de grafiek op.

groep	groep 1	groep 2	groep 3	groep 4
aantal kinderen met groene ogen	5	9	7	2


Oogkleur in de onderbouw



Opgave 2 Teken een staafgrafiek op basis van dit verhaal. Schrijf ook de informatie onder de grafiek op.

Het weerbericht van de afgelopen tijd laat zien dat er 80 dagen zon is geweest. Daarnaast waren er 75 dagen met regen, 25 dagen met onweer en 60 met bewolking.


Er waren ook nog 5 dagen met sneeuw.



Opgave 3 Teken een staafgrafiek op basis van de tabel.
Schrijf ook de informatie links van en onder de grafiek op.


groep	groep 3	groep 4	groep 5	groep 6	groep 7
aantal kinderen	20	55	80	60	35

Aantal kinderen per groep



Opgave 4 Teken een staafgrafiek op basis van dit verhaal. Schrijf ook de informatie onder de grafiek op.


Bij een telling van vervoersmiddelen in een grote stad werden er 800 fietsen, 650 auto's, 350 bussen en 250 trams geteld.



Opgave 5 Teken een staafgrafiek op basis van de tabel: Wekelijkse bezoekers museum. Schrijf ook de informatie links van en onder de grafiek op.

dagen	dinsdag	woensdag	donderdag	vrijdag
aantal bezorgde brieven	500	450	600	800

Dagelijks bezorgde brieven



Opgave 6 Ga op onderzoek uit in je klas. Verzamel gegevens en zet deze in de tabel. Teken dan de staafgrafiek en bedenk er een passende titel bij. Schrijf ook de informatie links van en onder de grafiek op.

