

Tabellen & Grafieken 4C

Eiland: Aflezen en tekenen van staafgrafieken

Leerdoel: Teken en een meervoudige staafgrafiek



Liniaal



Potlood



Kleurpotloden

Opgave 1 Teken een staafgrafiek op basis van de tabel: Brillen en beugels in de bovenbouw.

bovenbouwgroepen	groep 6	groep 7	groep 8
aantal kinderen met een bril	50	60	30
aantal kinderen met een beugel	10	30	20




Opgave 2 Teken een staafgrafiek op basis van de tabel: Verkoop in winkels.

winkel	winkel A	winkel B	winkel C
aantal verkochte tv's	300	200	900
aantal verkochte computers	600	600	100


**Opgave 3** Teken een staafgrafiek op basis van de tabel: Lidmaatschap sportclubs

sport	tennis	hockey	voetbal	zwemmen
jongens	200	550	950	200
meisjes	500	550	700	350




Opgave 4 Teken een staafgrafiek op basis van de tabel: Verkochte bloemen per winkel.

winkel	de Bloem	Het Roosje	de Tulp
aantal verkochte rozen	3000	3500	2000
aantal verkochte tulpen	4000	5500	9500



Opgave 5 Teken een staafgrafiek op basis van de tabel: Dagelijkse post.

dag	maandag	dinsdag	woensdag	donderdag	vrijdag	zaterdag
aantal bezorgde brieven	9500	5000	4500	6000	8000	3500
aantal bezorgde pakketten	5000	2500	9000	7000	6500	6000



[illegible]