

Tabellen & Grafieken 6B

Eiland: Aflezen en tekenen van lijngrafieken
Leerdoel: Teken een meervoudige lijngrafiek



Liniaal

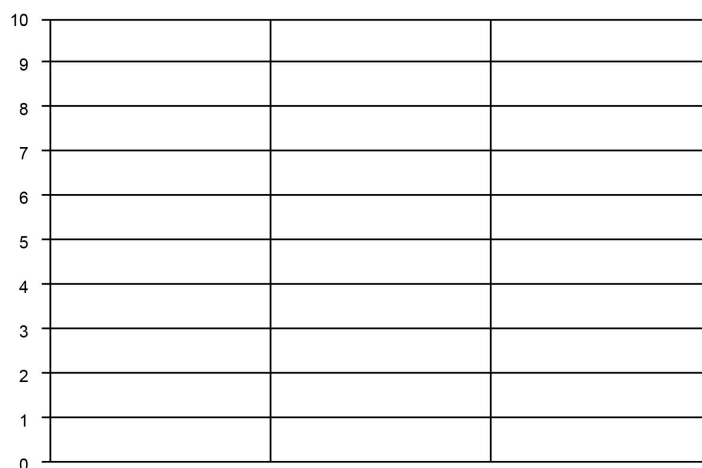


Kleurpotloden

Opgave 1 Teken een lijngrafiek op basis van de tabel.
 Schrijf ook de informatie bij de x-as op.

dag	maandag	dinsdag	woensdag
dagtemperatuur	4 °C	9 °C	3 °C
nachttemperatuur	1 °C	3 °C	1 °C

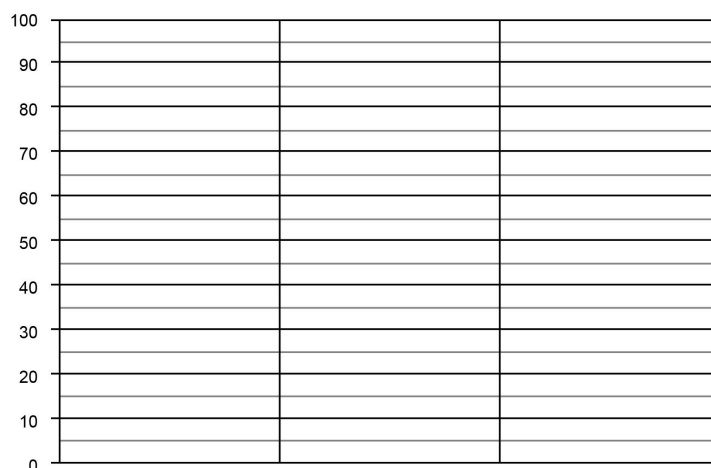
Temperatuur per dag



Opgave 2 Teken een lijngrafiek op basis van de tabel.
 Schrijf ook de informatie bij de x-as en y-as op.

leeftijd	15 jaar	16 jaar	17 jaar	18 jaar
zakgeld per week in 2010	€ 30,-	€ 35,-	€ 50,-	€ 65,-
zakgeld per week in 2020	€ 30,-	€ 40,-	€ 45,-	€ 60,-

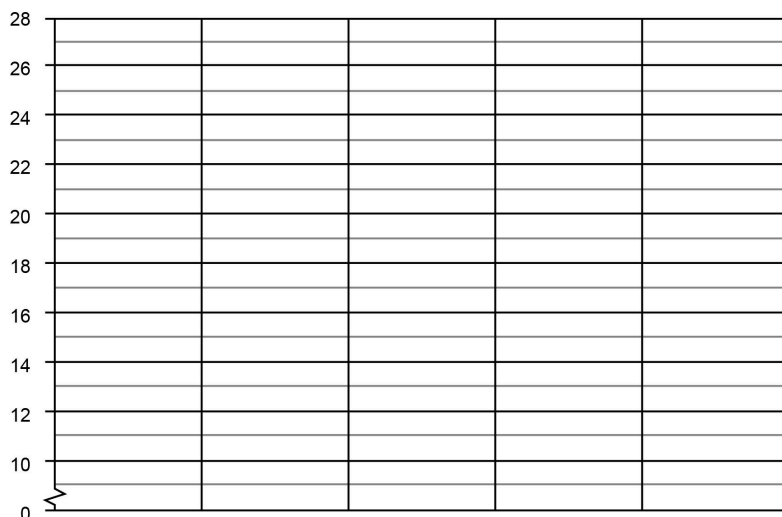
Leeftijdsgebonden zakgeld



Opgave 3 Teken een lijngrafiek op basis van de tabel.
Schrijf ook de informatie bij de x-as op.

maand	februari	maart	april	mei	juni	juli
dagtemperatuur	12 °C	15 °C	18 °C	19 °C	21 °C	22 °C
nachttemperatuur	8 °C	8 °C	10 °C	10 °C	12 °C	14 °C

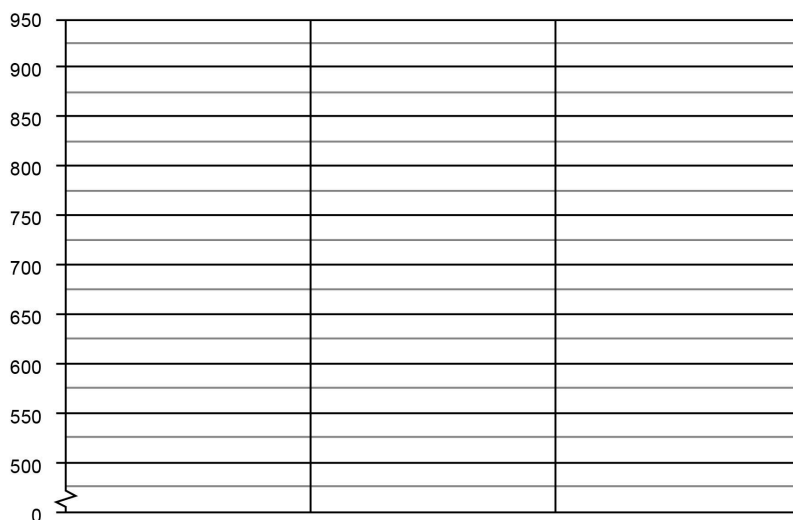
Temperatuur per maand



Opgave 4 Teken een lijngrafiek op basis van de tabel.
Schrijf ook de informatie bij de x-as op.

maand	juni	juli	augustus	september
aantal volwassenen	600	525	875	650
aantal kinderen	900	725	650	850

Bezoekers dierentuin De Grote Beer



Opgave 5 Teken een lijngrafiek op basis van de tabel. Schrijf ook de informatie bij de x-as op.

winkel	Gigant	Techneut	Media	Megabite	Gigabite
aantal verkochte tablets	150	800	550	450	700
aantal verkochte tv's	250	500	250	600	800

Tablet-verkoop in winkels

[illegible]

Opgave 6 Ga op onderzoek uit in je klas. Verzamel gegevens en zet deze in de tabel. Teken dan de lijngrafiek en bedenk er een passende titel bij. Schrijf ook de informatie bij de x-as en y-as op.

[illegible]