

Tabellen & Grafieken 3A

Eiland: Aflezen en tekenen van staafgrafieken
Leerdoel: Teken van een staafgrafiek



Liniaal




Kleurpotloden

Opgave 1 Teken een staafgrafiek op basis van de tabel.
 Schrijf ook de informatie onder de grafiek op.


dagen	maandag	dinsdag	woensdag	donderdag	vrijdag	zaterdag
aantal gedronken glazen water	9	6	4	2	10	6

Elke dag water drinken



Opgave 2 Teken een staafgrafiek op basis van dit verhaal. Schrijf ook de informatie onder de grafiek op.

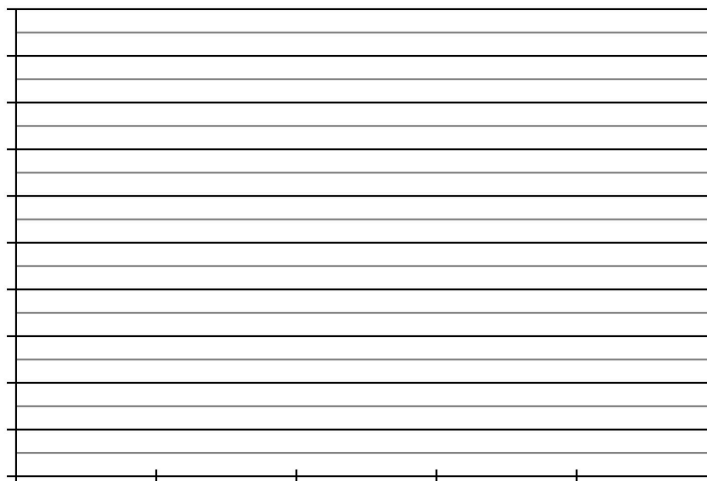
Op basisschool De Ster hebben ze verschillende klassen. In de kleuterklassen zitten in totaal 65 kinderen. In groep 3 t/m 5 zitten 80 kinderen en in groep 6 t/m 8 zitten maar 45 kinderen.



Opgave 3 Teken een staafgrafiek op basis van de tabel.
Schrijf ook de informatie links van en onder de grafiek op.


leeftijd	0 - 3 jaar	4 - 7 jaar	8 - 11 jaar	12 - 15 jaar	16 - 19 jaar
aantal kinderen met een huisdier	20	60	90	85	55

Kinderen met huisdieren



Opgave 4 Teken een staafgrafiek op basis van dit verhaal. Schrijf ook de informatie onder de grafiek op.

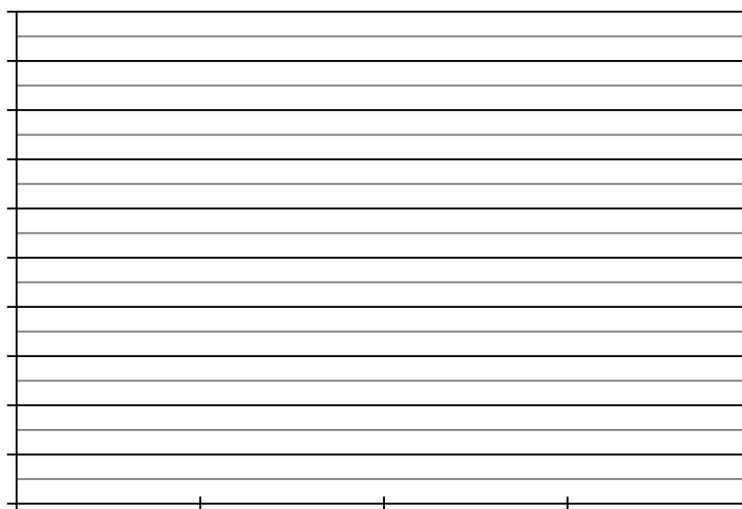
Op een hondenschool worden allerlei soorten honden getraind. De trainingen hebben een kleur die past bij de grootte van de hond. De paarse groep bestaat uit 250 honden, de gouden groep uit 300, en de gele groep uit 450.



Opgave 6 Teken een staafgrafiek op basis van de tabel: Wekelijkse bezoekers museum. Schrijf ook de informatie links van en onder de grafiek op.

leeftijd	week 1	week 2	week 3	week 4
aantal bezoekers museum	250	900	400	550

Wekelijkse bezoekers museum



Opgave 5 Ga op onderzoek uit in je klas. Verzamel gegevens en zet deze in de tabel. Teken dan de staafgrafiek en bedenk er een passende titel bij. Schrijf ook de informatie links van en onder de grafiek op.

