

Procenten, Breuken & Verhoudingen 6C

Eiland: Kennismaken met percentages
Leerdoel: Weergeven van een percentage in een figuur




Liniaal




Kleurpotloden

Opgave 1 Kleur 20%.



Opgave 2 Kleur 50% van het vierkant.



Opgave 3 Kleur 25% van de rechthoek.



Opgave 4 Kleur 40% van het stuk grond oranje.

De gemeente heeft een stuk grond gekocht. 40% van dit stuk grond wordt bebouwd met huizen.

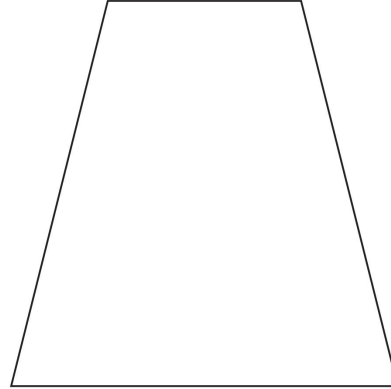


Opgave 5 Kleur $33\frac{1}{3}\%$ van de fles.

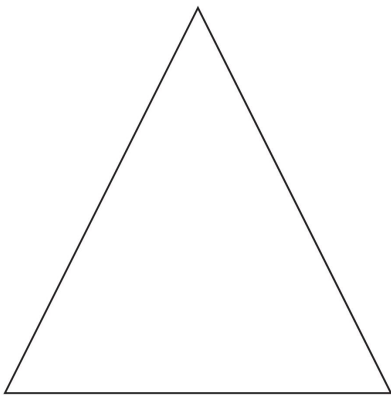


Opgave 6 Kleur $66\frac{2}{3}\%$ van deze plattegrond groen.

Dit is een plattegrond van een park. In het park is $66\frac{2}{3}\%$ gras.



Opgave 7 Kleur 25% van de driehoek.



Opgave 8 Kleur 75% van de fles.



Opgave 9 Kleur $33\frac{1}{3}\%$ op 3 verschillende manieren.



Opgave 10 Kleur $66\frac{2}{3}\%$.

