

## Tabellen & Grafieken 5C

**Eiland:** Aflezen en tekenen van lijngrafieken

**Leerdoel:** Teken en een lijngrafiek



Liniaal



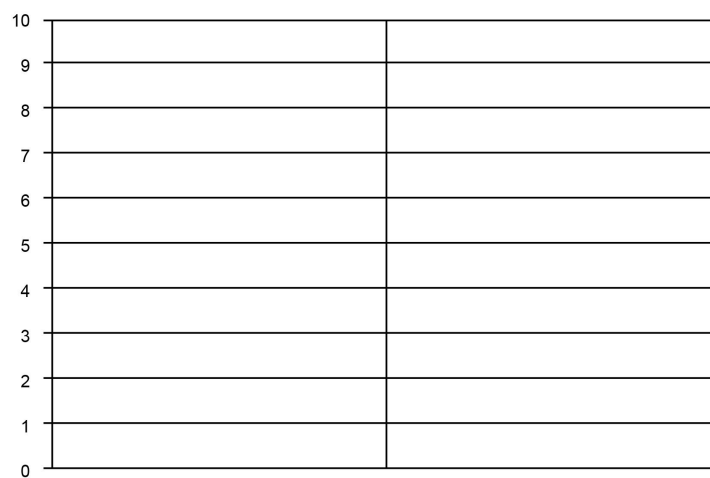
Kleurpotloden

**Opgave 1** Teken een lijngrafiek op basis van de tabel.

Schrijf ook de informatie bij de x-as op.

dagdeel	's ochtends	's middags	's avonds
temperatuur	2 °C	8 °C	1 °C

Temperatuur per dagdeel

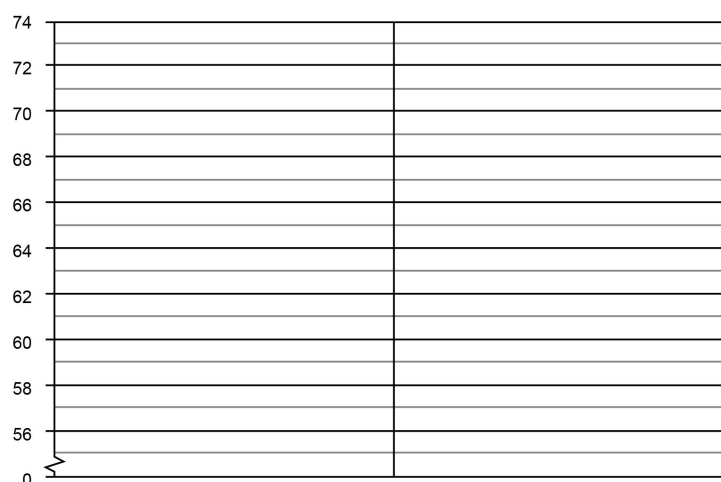


**Opgave 2** Teken een lijngrafiek op basis van de tabel.

Schrijf ook de informatie bij de x-as en y-as op.

leeftijd in maanden	maand 1	maand 2	maand 3
lengte van een baby in cm	56	59	63

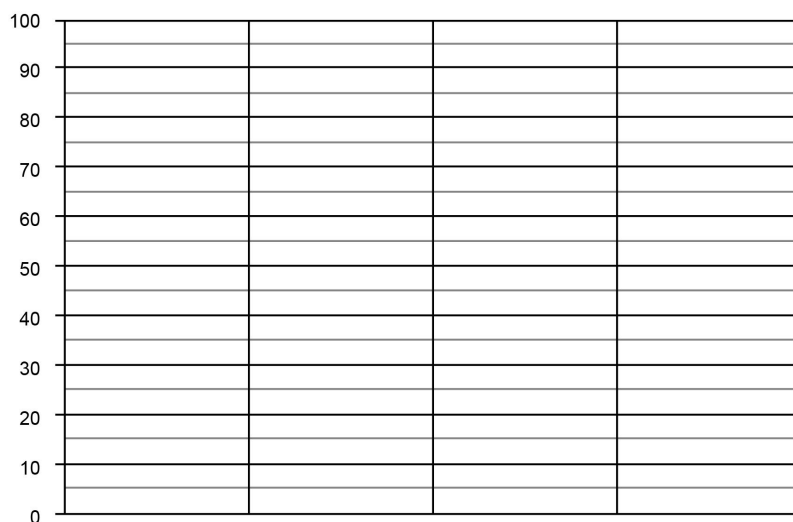
Gemiddelde lengte baby's



**Opgave 3** Teken een lijngrafiek op basis van de tabel.  
Schrijf ook de informatie bij de x-as op.

dag	maandag	dinsdag	woensdag	donderdag	vrijdag
aantal klanten in een winkel	80	75	90	55	60

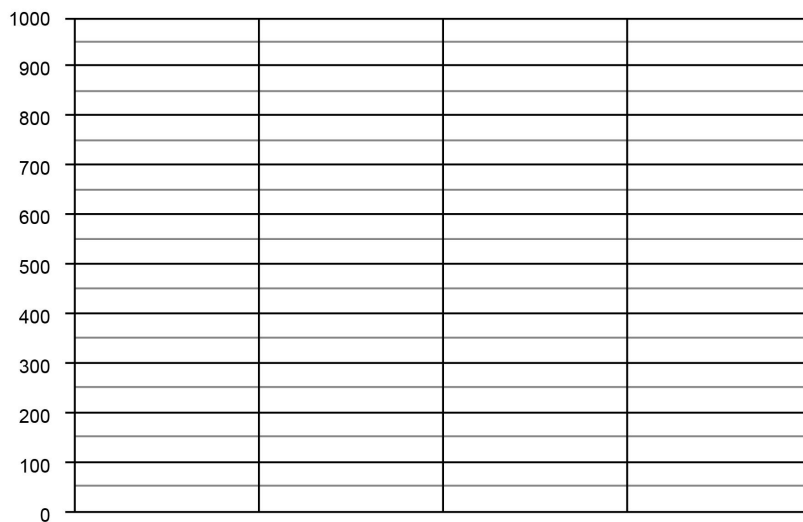
Klanten in de winkel



**Opgave 4** Teken een lijngrafiek op basis van de tabel.  
Schrijf ook de informatie bij de x-as op.

winkel	Gigant	Technet	Media	Megabite	Gigabite
aantal verkochte tablets	150	800	550	450	700

Tablet-verkoop in winkels



**Opgave 5** Teken een lijngrafiek op basis van de tabel. Schrijf ook de informatie bij de x-as en y-as op.

week	week 1	week 2	week 3	week 4	week 5	week 6
aantal bezoekers dierentuin	350	800	500	450	850	600

### Wekelijkse bezoekers dierentuin

[illegible]

**Opgave 6** Ga op onderzoek uit in je klas. Verzamel gegevens en zet deze in de tabel. Teken dan de lijngrafiek en bedenk er een passende titel bij. Schrijf ook de informatie bij de x-as en y-as op.


[illegible]