

Tabellen & Grafieken 4B

Eiland: Aflezen en tekenen van staafgrafieken
Leerdoel: Teken en een meervoudige staafgrafiek




Liniaal



Kleurpotloden

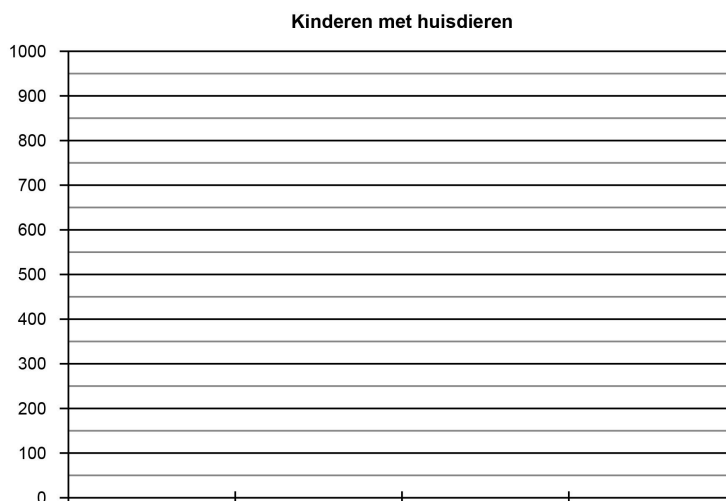
Opgave 1 Teken een staafgrafiek op basis van de tabel.
 Schrijf ook de informatie bij de x-as op.

groep	groep 1	groep 2	groep 3	groep 4
aantal kinderen met groene ogen	50	90	70	20
aantal kinderen met bruine ogen	70	60	70	50



Opgave 2 Teken een staafgrafiek op basis van de tabel.
 Schrijf ook de informatie bij de x-as op.

leeftijd	0 - 3 jaar	4 - 7 jaar	8 - 11 jaar	12 - 15 jaar
aantal kinderen met een hond	200	600	900	850
aantal kinderen met een konijn	650	800	200	400



Opgave 3 Teken een staafgrafiek op basis van de tabel.
Schrijf ook de informatie bij de x-as en y-as op.

groep	groep 1-2	groep 3-4	groep 5-6	groep 7-8
aantal jongens	200	550	800	600
aantal meisjes	150	450	300	750


Aantal kinderen per groep



Opgave 4 Teken een staafgrafiek op basis van de tabel.
Schrijf ook de informatie bij de x-as op.

groep	groep 1-2	groep 3-4	groep 5-6	groep 7-8
pennen	6000	2000	8000	2000
potloden	7500	1500	4500	5500

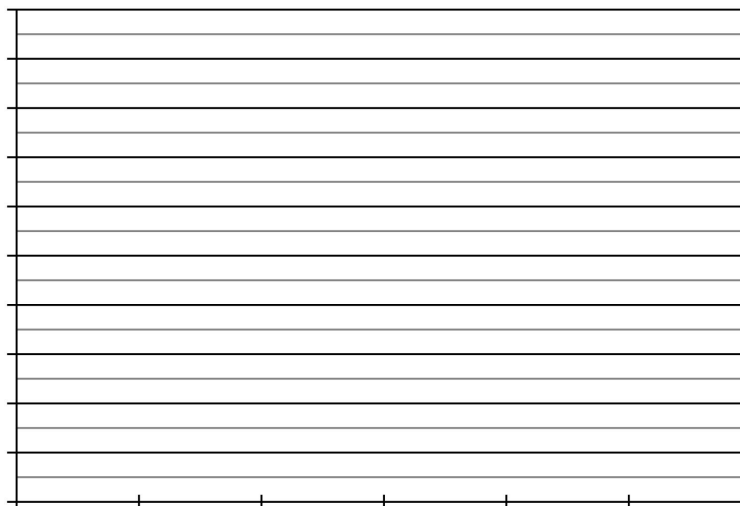
Bestelde schoolspullen



Opgave 5 Teken een staafgrafiek op basis van de tabel.
Schrijf ook de informatie bij de x-as en y-as op.

week	week 1	week 2	week 3	week 4	week 5	week 6
aantal bezoekers museum	2500	9000	4000	5500	7500	4000
aantal bezoekers dierentuin	5000	6500	3000	8000	4000	6500

Wekelijkse bezoekers



Opgave 6 Ga op onderzoek uit in je klas. Verzamel gegevens en zet deze in de tabel. Teken dan de staafgrafiek en bedenk er een passende titel bij. Schrijf ook de informatie bij de x-as en y-as op.

