

Tabellen & Grafieken 4C

Eiland: Aflezen en tekenen van staafgrafieken
Leerdoel: Teken en een meervoudige staafgrafiek



Liniaal



Kleurpotloden


Opgave 1 Teken een staafgrafiek op basis van de tabel.
 Schrijf ook de informatie bij de x-as op.

bovenbouwgroepen	groep 6	groep 7	groep 8
aantal kinderen met een bril	50	60	30
aantal kinderen met een beugel	10	30	20



Opgave 2 Teken een staafgrafiek op basis van de tabel.
 Schrijf ook de informatie bij de x-as op.


winkel	winkel A	winkel B	winkel C
aantal verkochte tv's	300	200	900
aantal verkochte computers	600	600	100



Opgave 3 Teken een staafgrafiek op basis van de tabel.
Schrijf ook de informatie bij de x-as en y-as op.

sport	tennis	hockey	voetbal	zwemmen
jongens	200	550	950	200
meisjes	500	550	700	350


Lidmaatschap sportclubs



Opgave 4 Teken een staafgrafiek op basis van de tabel.
Schrijf ook de informatie bij de x-as op.

winkel	de Bloem	Het Roosje	de Tulp
aantal verkochte rozen	3000	3500	2000
aantal verkochte tulpen	4000	5500	9500

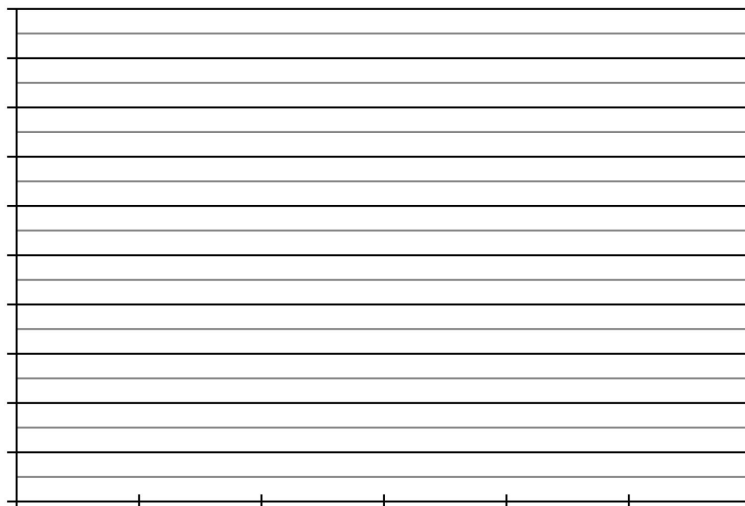
Verkochte bloemen per winkel



Opgave 5 Teken een staafgrafiek op basis van de tabel.
Schrijf ook de informatie bij de x-as en y-as op.

dag	ma	di	wo	do	vr	za
aantal bezorgde brieven	9500	5000	4500	6000	8000	3500
aantal bezorgde pakketten	5000	2500	9000	7000	6500	6000

Dagelijkse post



Opgave 6 Ga op onderzoek uit in je klas. Verzamel gegevens en zet deze in de tabel. Teken dan de staafgrafiek en bedenk er een passende titel bij. Schrijf ook de informatie bij de x-as en y-as op.

